

3. Аналитическая геометрия

3.1. Аналитическая геометрия в пространстве

Пусть в пространстве задана прямоугольная система координат $Oxyz$. Уравнение $F(x, y, z) = 0$ является уравнением поверхности, если координаты каждой точки, лежащей на этой поверхности, удовлетворяют данному уравнению, а координаты любой точки, не лежащей на этой поверхности, – ему не удовлетворяют. Простейшим видом поверхности является плоскость. Рассмотрим различные формы уравнений плоскости.

Пусть в пространстве плоскость (α) задана точкой $I_0(x_0, y_0, z_0)$ и вектором $\vec{n} = \{A, B, C\}$, перпендикулярным плоскости. Такой вектор называется *нормальным вектором плоскости*. Тогда уравнение плоскости, проходящей через данную точку перпендикулярно данному вектору, имеет вид $A(x - x_0) + B(y - y_0) + C(z - z_0) = 0$.

Уравнение вида $Ax + By + Cz + D = 0$ называется *общим уравнением плоскости*. Коэффициенты A, B, C являются координатами нормального вектора плоскости: $\vec{n} = \{A, B, C\}$.

Уравнение $\frac{x}{a} + \frac{y}{b} + \frac{z}{c} = 1$ называется *уравнением плоскости в отрезках*.

Число a – величина отрезка, отсекаемого плоскостью на оси Ox , число b – на оси Oy , число c – на оси Oz , т. е. плоскость пересекает ось Ox в точке $(a, 0, 0)$, ось Oy в точке $(0, b, 0)$, ось Oz в точке $(0, 0, c)$.

Если известны три точки плоскости $M_1(x_1, y_1, z_1)$, $M_2(x_2, y_2, z_2)$, $M_3(x_3, y_3, z_3)$, не лежащие на одной прямой, то из условия компланарности векторов $\overrightarrow{M_1M}$, $\overrightarrow{M_1M_2}$, $\overrightarrow{M_1M_3}$, где $M(x, y, z)$ – текущая точка плоскости (α) , можно составить уравнение плоскости, проходящей через три заданные точки:

$$\begin{vmatrix} x - x_1 & y - y_1 & z - z_1 \\ x_2 - x_1 & y_2 - y_1 & z_2 - z_1 \\ x_3 - x_1 & y_3 - y_1 & z_3 - z_1 \end{vmatrix} = 0.$$

Расстояние d от точки $M_0(x_0, y_0, z_0)$ до плоскости (α) , заданной общим уравнением $Ax + By + Cz + D = 0$, вычисляют по формуле

$$d = \frac{|Ax_0 + By_0 + Cz_0 + D|}{\sqrt{A^2 + B^2 + C^2}}.$$

Уравнения вида $\frac{x-x_0}{m} = \frac{y-y_0}{n} = \frac{z-z_0}{p}$ задают в пространстве прямую и

называются *каноническими уравнениями прямой*. В этой записи числа x_0, y_0, z_0 – координаты точки M_0 , лежащей на этой прямой, а числа m, n, p – координаты вектора \vec{l} , лежащего на прямой или параллельного ей и называемого *направляющим вектором прямой*.

Также прямую в пространстве определяют как линию пересечения двух плоскостей $\begin{cases} A_1x + B_1y + C_1z + D_1 = 0, \\ A_2x + B_2y + C_2z + D_2 = 0. \end{cases}$

В этом случае направляющий вектор прямой – это вектор, равный векторному произведению нормальных векторов плоскостей $\vec{l} = \vec{n}_1 \times \vec{n}_2$.

Уравнение прямой, проходящей через две точки $M_1(x_1, y_1, z_1)$ и $M_2(x_2, y_2, z_2)$, имеет вид $\frac{x-x_1}{x_2-x_1} = \frac{y-y_1}{y_2-y_1} = \frac{z-z_1}{z_2-z_1}$.

Уравнения вида $\begin{cases} x = mt + x_0, \\ y = nt + y_0, \\ z = pt + z_0, \end{cases}$ где $-\infty < t < +\infty$ называются

параметрическими уравнениями прямой. Их можно вывести из канонических уравнений прямой, если каждое отношение приравнять к параметру t .

Задача 3.1. Даны четыре точки $A_1(6, 6, 5)$, $A_2(4, 9, 5)$, $A_3(4, 6, 11)$, $A_4(6, 9, 3)$. Составить уравнения: плоскости, проходящей через точки A_1, A_2 и A_3 ; прямой, проходящей через точки A_1 и A_2 ; прямой A_4M , перпендикулярной к плоскости A_1, A_2, A_3 ; прямой A_3N , параллельной прямой A_1, A_2 ; плоскости, проходящей через точку A_4 перпендикулярно к прямой A_1, A_2 . Вычислить: синус угла между прямой A_1A_4 и плоскостью $A_1A_2A_3$; косинус угла между координатной плоскостью Oxy и плоскостью $A_1A_2A_3$.

Решение

1. Общее уравнение плоскости имеет вид $Ax + By + Cz + D = 0$, где коэффициенты A, B, C одновременно не равны нулю.

Уравнение плоскости, проходящей через три различные точки $M_0(x_0, y_0, z_0)$ и $M_1(x_1, y_1, z_1)$, $M_2(x_2, y_2, z_2)$, которые не лежат на одной прямой, можно составить по формуле:

$$\begin{vmatrix} x - x_0 & x_1 - x_0 & x_2 - x_0 \\ y - y_0 & y_1 - y_0 & y_2 - y_0 \\ z - z_0 & z_1 - z_0 & z_2 - z_0 \end{vmatrix} = 0$$

Составим уравнение плоскости по трем точкам $A_1(6, 6, 5)$, $A_2(4, 9, 5)$ и $A_3(4, 6, 11)$.

$$\begin{vmatrix} x - 6 & 4 - 6 & 4 - 6 \\ y - 6 & 9 - 6 & 6 - 6 \\ z - 5 & 5 - 5 & 11 - 5 \end{vmatrix} = 0, \quad \begin{vmatrix} x - 6 & -2 & -2 \\ y - 6 & 3 & 0 \\ z - 5 & 0 & 6 \end{vmatrix} = 0$$

$$\begin{aligned} 6((x - 6) \cdot (-3) - (-2) \cdot (y - 6)) + (-2) \cdot ((y - 6) \cdot 0 - (-3) \cdot (z - 5)) &= \\ = 6 \cdot (-3x + 18 + 2y - 12) + 2 \cdot (3z - 15) &= \\ = 6 \cdot (-3x + 2y - 6) + 2 \cdot (3z - 15) = -18x + 12y + 36 + 6z - 30 &= \\ = 0 &= \\ -18x + 12y + 6z + 6 = 0. & \end{aligned}$$

2. Если на прямой в пространстве выделить две произвольные точки $M_1(x_1, y_1, z_1)$, $M_2(x_2, y_2, z_2)$, то координаты любой точки на прямой должны удовлетворять уравнению

$$\frac{x - x_1}{x_2 - x_1} = \frac{y - y_1}{y_2 - y_1} = \frac{z - z_1}{z_2 - z_1}.$$

Для точек $A_1(6, 6, 5)$, $A_2(4, 9, 5)$ получим уравнение прямой:

$$\frac{x - 6}{4 - 6} = \frac{y - 6}{9 - 6} = \frac{z - 5}{5 - 5}.$$

Заметим, что один из знаменателей обращается в ноль. Эта запись не подразумевает проведения некорректного алгебраического «деления на ноль», а трактуется как постоянное равенство нулю соответствующего числителя. Оставшееся равенство принимает вид:

$$y - 6 = \frac{x - 6}{-2}(-3)$$

$$y - 6 = (x - 6) \frac{3}{2};$$

$$2y - 12 = 3x - 18;$$

$$2y - 3x + 6 = 0.$$

Уравнение прямой, проходящей через точки A_1, A_2 , имеет вид

$$2y - 3x + 6 = 0, z = 5.$$

3. Если прямая перпендикулярна к плоскости, значит, она параллельна нормальному вектору этой плоскости \vec{n} . Известно, что уравнение плоскости, проходящей через точки A_1, A_2 и A_3 , имеет вид $-18x + 12y + 6z + 6 = 0$. Нормальный вектор этой плоскости $\vec{n} = \{-18; 12; 6\}$. Составим уравнение прямой с направляющим вектором \vec{n} , проходящей через точку $A_4(6, 9, 3)$:

$$\frac{x-6}{-18} = \frac{y-9}{12} = \frac{z-3}{6}.$$

4. Уравнение прямой проходящей через точки A_1, A_2 , имеет вид $\frac{x-6}{-2} = \frac{y-6}{-3} = \frac{z-5}{0}$, где $\overrightarrow{\{-2; -3; 0\}}$ – направляющий вектор прямой. Тогда уравнение

прямой, проходящей через точку A_3 , параллельно вектору $\overrightarrow{\{-2; -3; 0\}}$, имеет вид: $\frac{x-4}{-2} = \frac{y-6}{-3} = \frac{z-11}{0}$. Аналогично п. 2, числитель в третьем

составляющем приравниваем нулю и преобразуем оставшееся равенство

$$\frac{x-4}{-2} = \frac{y-6}{-3}$$

$$3(x-4) = 2(y-6)$$

$$3x - 12 - 2y + 12 = 0$$

$$\begin{cases} 3x - 2y = 0 \\ z = 11 \end{cases} \text{ – уравнение прямой } A_3N, \text{ параллельной прямой } A_1, A_2.$$

5. Прямая, проходящая через точки A_1 и A_2 имеет вид:

$$\frac{x-4}{-2} = \frac{y-6}{-3} = \frac{z-11}{0}, \text{ где } \overrightarrow{\{-2; -3; 0\}} \text{ – направляющий вектор этой}$$

прямой. Тогда уравнение плоскости, проходящей через точку $A_4(6, 9, 3)$, перпендикулярно к данной прямой, имеет вид:

$$-2(x-6) + (-3) \cdot (y-9) + 0 \cdot (z-3) = 0$$

$$-2x + 12 - 3y + 27 = 0$$

$$-2x - 3y + 39 = 0.$$

6. Найдем синус угла между прямой A_1A_4 и плоскостью $A_1A_2A_3$. Уравнение плоскости $A_1A_2A_3$ имеет вид $-18x + 12y + 6z + 6 = 0$. Прямая,

проходящая через точки A_1 и A_4 имеет уравнение $\frac{x-6}{6-6} = \frac{y-6}{9-6} = \frac{z-5}{3-5}$. Отсюда

ясно, что Направляющий вектор прямой A_1A_4 $\{0, 3, -2\} = \vec{p}$, а нормальный вектор плоскости $A_1A_2A_3$ $\{-18, 12, 6\} = \vec{n}$, синус угла между прямой и

плоскостью: $\sin \varphi = \frac{|\vec{n} \cdot \vec{p}|}{|\vec{n}| \cdot |\vec{p}|}$.

Вычислим скалярное произведение $\vec{n} \cdot \vec{p} = -18 \cdot 0 + 12 \cdot 3 + 6 \cdot (-2) = 36 - 12 = 24$. Модули векторов

$$|\vec{n}| = \sqrt{(-18)^2 + 12^2 + 6^2} = \sqrt{324 + 144 + 36} = \sqrt{504},$$

$$|\vec{p}| = \sqrt{0^2 + 3^2 + (-2)^2} = \sqrt{9 + 4} = \sqrt{13}$$

$$\sin \varphi = \frac{24}{\sqrt{6552}} = \frac{24}{81} \approx 0,3, \varphi \approx 17^\circ.$$

7. Найдем косинус угла между координатной плоскостью Oxy и плоскостью $A_1A_2A_3$.

Уравнение плоскости $A_1A_2A_3$ имеет вид: $-18x + 12y + 6z + 6 = 0$.

Плоскость Oxy имеет уравнение вида: $z = 0$.

Формула косинуса угла между плоскостями

$$\cos \varphi = \frac{A_1A_2+B_1B_2+C_1C_2}{\sqrt{A_1^2+B_1^2+C_1^2} + \sqrt{A_2^2+B_2^2+C_2^2}}, \text{ где } A_1 = -18, B_1 = 12, C_1 = 6, A_2 =$$

$$0, B_2 = 0, C_2 = 1$$

$$\cos \varphi = \frac{-18 \cdot 0 + 12 \cdot 0 + 6 \cdot 1}{\sqrt{(-18)^2 + 12^2 + 6^2} + \sqrt{0^2 + 0^2 + 1^2}} = \frac{6}{\sqrt{504} + 1} = \frac{1}{23,45} \approx 0,04,$$

$$\varphi \approx 87,5^\circ.$$

Задача 3.2. Составить уравнение плоскости α , проходящей через точку $M(1, -1, 2)$ перпендикулярно к отрезку M_1M_2 , если $M_1(2, 3, -4), M_2(-1, 2, -3)$.

Составим уравнение прямой, проходящей через точки M_1 и M_2 $\frac{x-2}{-1-2} =$

$$\frac{y-3}{2-3} = \frac{z+4}{-3+4}, \text{ т. е. } \frac{x-2}{-3} = \frac{y-3}{-1} = \frac{z+4}{1}, \text{ где вектор } \{-3, -1, 1\} \text{ является,}$$

направляющим вектором прямой M_1M_2 .

Принимаем координаты направляющего вектора прямой M_1M_2 как соответствующие координаты нормального вектора \vec{n} плоскости α .

Записываем уравнение плоскости, проходящей через точку $M(1, -1, 2)$ и имеющей нормальный вектор $\vec{n}(\{A, B, C\})$, в виде:

$A(x - x_1) + B(y - y_1) + C(z - z_1) = 0$, где (x_1, y_1, z_1) – координаты точки M , $A = -3, B = -1, C = 1$

$$-3(x - 1) + (-1) \cdot (y + 1) + 1 \cdot (z - 2) = 0$$

$$-3x + 4 - y - 1 + z - 2 = 0$$

$$-3x - y + z + 1 = 0$$

– это искомое уравнение плоскости, проходящей через заданную точку, перпендикулярной к заданной прямой.

Задача 3.3. Показать, что прямая $\frac{x}{6} = \frac{y-3}{-8} = \frac{z-1}{-9}$ параллельна плоскости $x + 3y - 2z + 1 = 0$, а прямая $x = t + 7, y = t - 2, z = 2t + 1$ лежит в этой плоскости.

1. Направляющий вектор прямой $\vec{p} = \{6, -8, -9\}$, а вектор нормали плоскости $\vec{n} = \{1, 3, -2\}$. Рассмотрим скалярное произведение векторов $\vec{n} \cdot \vec{p} = \frac{|\vec{p} \cdot \vec{n}|}{|\vec{p}| \cdot |\vec{n}|} = \frac{-18 \cdot 0 + 12 \cdot 0 + 6 \cdot 1}{\sqrt{6^2 + (-8)^2 + (-9)^2} \cdot \sqrt{1^2 + 3^2 + (-2)^2}} = \frac{6 - 24 + 0}{\sqrt{181} \cdot \sqrt{14}} = 0$.

Косинус угла между векторами равен нулю. Соответственно прямая $\frac{x}{6} = \frac{y-3}{-8} = \frac{z-1}{-9}$ параллельна плоскости $x + 3y - 2z + 1 = 0$.

2. Подставим выражения, характеризующие прямую $x = t + 7$, $y = t - 2$, $z = 2t + 1$ в уравнение плоскости $x + 3y - 2z + 1 = 0$, получим

$$(t + 7) + 3 \cdot (t - 2) - 2 \cdot (2t + 1) + 1 = 0,$$

$$t + 7 + 3t - 6 - 4t - 2 + 1 = 0, \quad 0 = 0.$$

Получено тождественное равенство, независящее от значения t . Это свидетельствует о том, что все точки прямой (т. е. вся прямая) лежат в данной плоскости.

3.2. Аналитическая геометрия на плоскости

Расстояние между точками $A(x_1, y_1)$ и $B(x_2, y_2)$ $d = \sqrt{(x_2 - x_1)^2 + (y_2 - y_1)^2}$.

Координаты точки $C(x, y)$, которая делит отрезок, соединяющий точки $A(x_1, y_1)$ и $B(x_2, y_2)$, в отношении $\lambda = \frac{AC}{CB}$:

$$\begin{cases} x = \frac{x_1 + \lambda x_2}{1 + \lambda}, \\ y = \frac{y_1 + \lambda y_2}{1 + \lambda}, \end{cases} \quad \lambda \neq -1.$$

Координаты середины отрезка АВ, соединяющего точки $A(x_1, y_1)$ и $B(x_2, y_2)$:

$$x = \frac{x_1 + x_2}{2}; \quad y = \frac{y_1 + y_2}{2}.$$

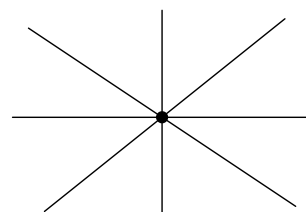
Условие принадлежности трёх точек $M_1(x_1, y_1), M_2(x_2, y_2), M_3(x_3, y_3)$ одной прямой:

$$\begin{vmatrix} x_1 & y_1 & 1 \\ x_2 & y_2 & 1 \\ x_3 & y_3 & 1 \end{vmatrix} = 0.$$

Площадь треугольника с вершинами $M_1(x_1, y_1), M_2(x_2, y_2), M_3(x_3, y_3)$ (знак выбирается так, чтобы площадь была неотрицательной):

$$S = \pm \frac{1}{2} \begin{vmatrix} x_1 & y_1 & 1 \\ x_2 & y_2 & 1 \\ x_3 & y_3 & 1 \end{vmatrix} = \pm \frac{1}{2} \begin{vmatrix} x_2 - x_1 & y_2 - y_1 \\ x_3 - x_1 & y_3 - y_1 \end{vmatrix}.$$

Пучком пересекающихся прямых называется множество всех прямых плоскости, проходящих через одну точку, называемую центром пучка.



Если $A_1x + B_1y + C_1 = 0$ и $A_2x + B_2y + C_2 = 0$ – уравнения двух прямых, пересекающихся в точке M_0 , то уравнение

$$\alpha(A_1x + B_1y + C_1) + \beta(A_2x + B_2y + C_2) = 0$$

где α, β – произвольные числа, не равные нулю одновременно, определяет любую прямую, проходящую через центр пучка.

Общее уравнение прямой: $Ax + By + C = 0$.

Уравнение прямой, проходящей через точку $M_0(x_0, y_0)$ перпендикулярно вектору $\vec{n} = \{A; B\}$: $A(x - x_0) + B(y - y_0) = 0$.

Каноническое уравнение прямой, проходящей через точку $M_0(x_0, y_0)$ параллельно вектору $\vec{s} = \{l; m\}$: $\frac{x - x_0}{l} = \frac{y - y_0}{m}$.

Параметрические уравнения прямой, проходящей через точку $M_0(x_0, y_0)$ параллельно вектору $\vec{s} = \{l; m\}$:

$$\begin{cases} x = x_0 + lt, \\ y = y_0 + mt, \end{cases} \quad t \in (-\infty, \infty).$$

Уравнение прямой, проходящей через две заданные точки $M_1(x_1, y_1)$ и $M_2(x_2, y_2)$: $\frac{x - x_1}{x_2 - x_1} = \frac{y - y_1}{y_2 - y_1}$.

Уравнение прямой с угловым коэффициентом k , где $\alpha \in \left[0, \frac{\pi}{2}\right) \cup \left(\frac{\pi}{2}, \pi\right)$ – угол наклона прямой к оси Ox

$$y = kx + b, \quad k = \operatorname{tg} \alpha.$$

Уравнение прямой "в отрезках", где $A(a; 0)$ и $B(0; b)$ – координаты точек пересечения прямой с осями Ox и Oy : $\frac{x}{a} + \frac{y}{b} = 1, \quad a \neq 0, b \neq 0$.

Нормальное уравнение прямой, где p – расстояние от начала координат до прямой, α – угол между осью Ox и перпендикуляром к прямой, проходящим через начало координат: $x \cos \alpha + y \sin \alpha - p = 0$.

Нормальный вид общего уравнения прямой (знак нормирующего множителя противоположен знаку свободного слагаемого C): $\frac{Ax + By + C}{\pm \sqrt{A^2 + B^2}} = 0$.

Расстояние от точки $M_0(x_0, y_0)$ до прямой $Ax + By + C = 0$:

$$d = \frac{|Ax_0 + By_0 + C|}{\sqrt{A^2 + B^2}}.$$

Координаты точек пересечения прямых, заданных общими уравнениями $A_1x + B_1y + C_1 = 0$ и $A_2x + B_2y + C_2 = 0$:

$$x_0 = \frac{\begin{vmatrix} B_1 & C_1 \\ B_2 & C_2 \end{vmatrix}}{\begin{vmatrix} A_1 & B_1 \\ A_2 & B_2 \end{vmatrix}}, \quad y_0 = \frac{\begin{vmatrix} C_1 & A_1 \\ C_2 & A_2 \end{vmatrix}}{\begin{vmatrix} A_1 & B_1 \\ A_2 & B_2 \end{vmatrix}}.$$

Координаты точек пересечения прямых, заданных уравнениями с угловым коэффициентом $y = k_1x + b_1$ и $y = k_2x + b_2$:

$$x_0 = \frac{b_2 - b_1}{k_1 - k_2}, \quad y_0 = \frac{b_2k_1 - b_1k_2}{k_1 - k_2}.$$

Условия параллельности прямых, заданных своими общими уравнениями $A_1x + B_1y + C_1 = 0$, $A_2x + B_2y + C_2 = 0$ и уравнениями с угловым коэффициентом $y = k_1x + b_1$ и $y = k_2x + b_2$:

$$\frac{A_1}{A_2} = \frac{B_1}{B_2}, \quad A_1B_2 - A_2B_1 = 0 \quad \text{или} \quad k_1 = k_2.$$

Условия перпендикулярности прямых, заданных своими общими уравнениями $A_1x + B_1y + C_1 = 0$, $A_2x + B_2y + C_2 = 0$ и уравнениями с угловым коэффициентом $y = k_1x + b_1$ и $y = k_2x + b_2$:

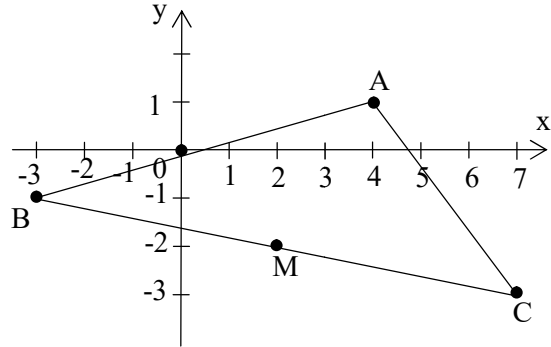
$$A_1A_2 + B_1B_2 = 0 \quad \text{или} \quad k_1k_2 = -1.$$

Острый угол α между прямыми, заданными своими общими уравнениями $A_1x + B_1y + C_1 = 0$, $A_2x + B_2y + C_2 = 0$ и уравнениями с угловым коэффициентом $y = k_1x + b_1$ и $y = k_2x + b_2$:

$$\operatorname{tg} \alpha = \left| \frac{A_1 B_2 - A_2 B_1}{A_1 A_2 + B_1 B_2} \right|, \quad \operatorname{tg} \alpha = \left| \frac{k_1 - k_2}{1 + k_1 k_2} \right|, \text{ где } k_1 k_2 \neq -1.$$

Если $k_1 k_2 = -1$, то $\alpha = \frac{\pi}{2}$.

Задача 3.4. Даны вершины треугольника ABC : $A(4, 1)$, $B(-3, -1)$, $C(7, -3)$. Найти: уравнение стороны AB ; уравнение высоты CH ; уравнение медианы AM ; точку N пересечения медианы AM и высоты CH ; уравнение прямой, проходящей через вершину C параллельно стороне AB ; расстояние от точки C до прямой AB .



Решение

1. Даны вершины треугольника ABC $A(4, 1)$, $B(-3, -1)$, $C(7, -3)$ уравнение стороны AB . Будем искать уравнение прямой в виде $y = kx + b$. Наша прямая проходит через точки A и B , а значит, для двух произвольных точек на этой прямой выполняются равенства $y_1 = kx_1 + b$ и $y_2 = kx_2 + b$, их можно записать в виде системы (решив эту систему относительно k и b , мы найдем уравнение прямой):

$$\begin{cases} kx_1 + b = y_1 \\ kx_2 + b = y_2 \end{cases}$$

В нашем случае найдем уравнение прямой, проходящей через точки $A(4; 1)$, $B(-3; -1)$

$$\begin{cases} k \cdot 4 + b = 1 \\ k \cdot (-3) + b = -1 \end{cases} \text{ отсюда } k = \frac{2}{7}, b = -\frac{1}{7}$$

Таким образом, уравнение прямой проходящей через точки A и B имеет вид $y = \frac{2}{7}x - \frac{1}{7}$.

2. Найдем уравнение высоты CH . Так как прямая CH перпендикулярна прямой AB , воспользуемся следующим приемом. Если прямая задана уравнением $y = kx + b$, то перпендикулярная ей прямая будет иметь вид

$$y = \left(-\frac{1}{k}\right)x + d.$$

Таким образом, перпендикулярная к AB прямая будет иметь уравнение $y = -\frac{7}{2}x + d$. Постоянную найдем d из условия, что высота CH проходит через точку $C(7; -3)$:

$$-3 = -\frac{7}{2} \cdot 7 + d, \text{ откуда } d = 22\frac{1}{2}$$

Таким образом, уравнение CH : $y = -\frac{7}{2}x + 22\frac{1}{2}$.

3. Медиана AM проходит через две точки – точку A и середину отрезка BC .

Найдем координаты середины BC по формуле: $x = (x_1 + x_2)/2$,

$y = (y_1 + y_2)/2$, координаты точки $M(2; -2)$.

Теперь ищем уравнение прямой, идущей через две точки $A(4; 1)$ и $M(2; -2)$ указанным в п. 1 способом.

$$\begin{cases} 4k + b = 1 \\ 2k + b = -2 \end{cases}, \text{ откуда } k = \frac{3}{2} \text{ и } b = -5$$

Уравнение прямой AM $y = \frac{3}{2}x - 5$.

4. Найдем точку N пересечения медианы AM и высоты CH . Прямая AM имеет уравнение $y = \frac{3}{2}x - 5$, а прямая CH – $y = -\frac{7}{2}x + 22\frac{1}{2}$.

Точку пересечения найдем, решив систему:

$$\begin{cases} \frac{3}{2}x - 5 - y = 0 \\ -\frac{7}{2}x + 22\frac{1}{2} - y = 0 \end{cases}$$

Точка пересечения $N\left(\frac{11}{2}; \frac{13}{4}\right)$.

5. Найдем уравнение прямой, проходящей через вершину $C(7, -3)$ параллельно стороне AB . Уравнение прямой проходящей через точки A и B имеет вид $y = \frac{2}{7}x - \frac{1}{7}$, прямая проходящая через точку $C(7, -3)$ и параллельная этой прямой сохраняет угловой коэффициент:

$$y - 7 = \frac{2}{7} \cdot (x + 3), \text{ т. е. } y = \frac{2}{7}x + 7\frac{6}{7}.$$

6. Расстояние от точки $M(x_0; y_0)$ до прямой $Ax + By + C = 0$, определяется так: $d = \frac{|Ax_0 + By_0 + C|}{\sqrt{A^2 + B^2}}$. Найдем расстояние от точки $C(7, -3)$ до прямой AB $y = \frac{2}{7}x - \frac{1}{7}$, преодолевая неоднозначность обозначений: коэффициенты уравнения прямой и вершины треугольника обозначены одинаково. В нашем случае коэффициенты уравнения прямой $A = \frac{2}{7}$, $B = -1$, $C = -\frac{1}{7}$; координаты внешней точки $x_0 = 7$, $y_0 = -3$ и искомое расстояние от точки C до прямой AB

$$d = \frac{\left| \frac{2}{7} \cdot 7 + (-1) \cdot (-3) - \frac{1}{7} \right|}{\sqrt{\left(\frac{2}{7}\right)^2 + (-1)^2}} = \frac{\left| 2 + 3 - \frac{1}{7} \right|}{\sqrt{\frac{4}{49} + 1}} = \frac{35}{\sqrt{53}} \approx 4,8.$$

Задача 3.6. Дан треугольник с вершинами ABC : $A(3, 1)$, $B(-3, -1)$ и $C(5, -12)$. Найти уравнение и вычислить длину его медианы, проведенной из вершины C .

Решение

Медиана CM проходит через две точки – точку C и середину отрезка AB .

Найдем координаты середины AB по формуле: $x = (x_1 + x_2)/2$, $y = (y_1 + y_2)/2$, координаты точки $M(0; 0)$ совпали с началом координат.

Параметры уравнения $y = kx + b$ прямой, идущей через две точки $C(5, -12)$ и $M(0; 0)$ определяем с помощью приема, описанного в предыдущей задаче

$\begin{cases} 5k + b = -12 \\ 0k + b = 0 \end{cases}$, откуда находим $y = -\frac{12}{5}x$ – уравнение медианы, опущенной из точки C .

Найдем длину медианы, т. е. найдем расстояние между двумя точками $C(5, -12)$ и $M(0; 0)$.

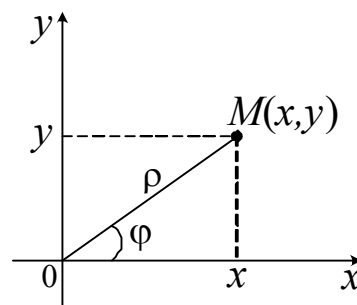
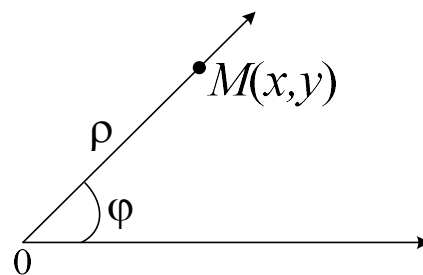
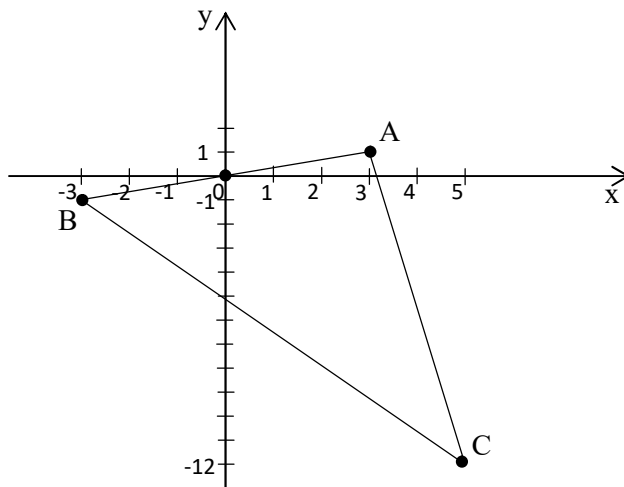
$$d = \sqrt{(x_2 - x_1)^2 + (y_2 - y_1)^2}$$

$$d = \sqrt{(5 - 0)^2 + (-12 - 0)^2}, d = \sqrt{5^2 + 12^2}$$

$$d = \sqrt{25 + 144} = \sqrt{169} = 13.$$

Длина медианы равна 13.

Полярные координаты определяются заданием на плоскости полюса O и полярной оси. Координаты точки M в полярных координатах задаются длиной радиус-вектора $|\overline{OM}| = \rho$ этой точки и углом его поворота относительно полярной оси. При этом $0 \leq \rho < \infty$, $0 \leq \varphi < 2\pi$.

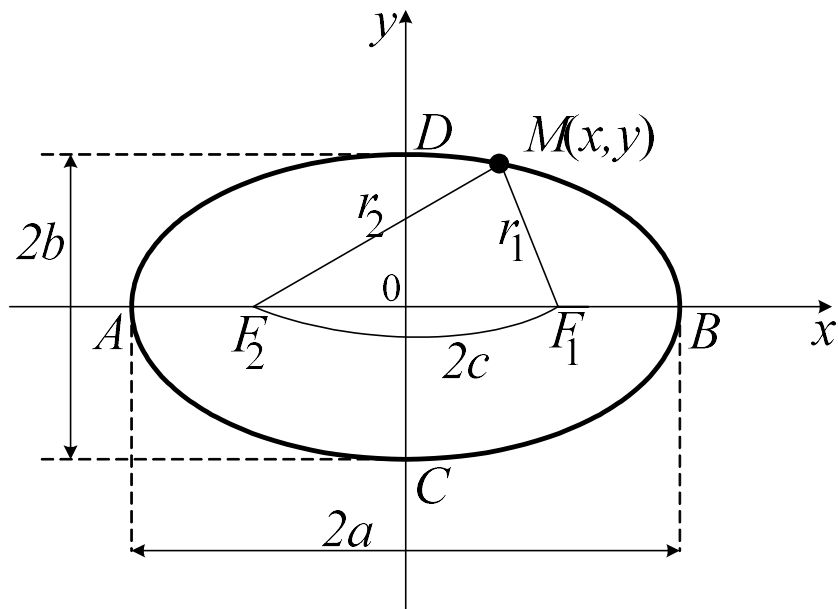


Связь полярных координат с декартовыми

$$\begin{cases} x = \rho \cos \varphi, \\ y = \rho \sin \varphi, \end{cases} \quad \rho = \sqrt{x^2 + y^2}, \quad \operatorname{tg} \varphi = \frac{y}{x}$$

В полярных координатах кривые второго порядка имеют уравнения $\rho = \frac{p}{1 - \varepsilon \cos \varphi}$, если полюс находится в фокусе, полярная ось направлена из фокуса к ближайшей вершине (для гиперболы этим уравнением определяется только одна ветвь); p – фокальный параметр, ε – эксцентриситет кривой.

Эллипс – геометрическое место точек $M(x, y)$, для которых сумма расстояний до двух заданных точек $F_1(+c, 0)$ и $F_2(-c, 0)$ (называемых фокусами эллипса) постоянна и равна $2a$, ($a > c$).



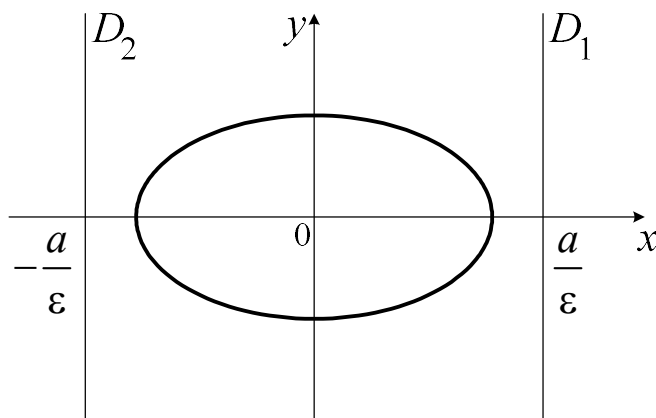
$$|F_1M| + |F_2M| = 2a \quad \text{и} \quad |F_1F_2| = 2c, \quad c^2 = a^2 - b^2.$$

Каноническое уравнение эллипса:

$$\frac{x^2}{a^2} + \frac{y^2}{b^2} = 1.$$

Элементы эллипса: точка O – центр эллипса; точки A, B, C, D – вершины эллипса; точки $F_1(+c, 0)$, $F_2(-c, 0)$ – фокусы; $2c$ – фокусное расстояние; $AB = 2a$ и $CD = 2b$ – большая и малая оси; a и b – большая и малая полуоси;

$\varepsilon = \frac{c}{a} = \sqrt{1 - \frac{b^2}{a^2}}$, ($\varepsilon < 1$) – эксцентриситет эллипса (чем больше ε , тем больше эллипс вытянут вдоль большой оси).



$x = \pm \frac{a}{\varepsilon}$ – уравнения правой и левой директрис

Параметрические уравнения эллипса:

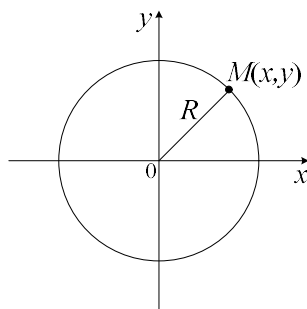
$$\begin{cases} x = a \cos t, \\ y = b \sin t. \end{cases}$$

Здесь t – параметр, $t \in [0, 2\pi)$; (t – угол, образованный подвижным радиусом с положительным направлением оси Ox);

Каноническое уравнение эллипса со смещенным центром:

$$\frac{(x - x_0)^2}{a^2} + \frac{(y - y_0)^2}{b^2} = 1.$$

Окружность – геометрическое место точек, равноудаленных от точки O – центра окружности.



Уравнение окружности радиуса R с центром в начале координат:

$$x^2 + y^2 = R^2.$$

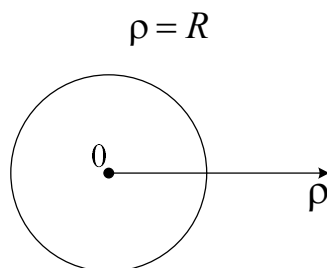
Уравнение окружности радиуса R с центром в произвольной точке $M_0(x_0, y_0)$:

$$(x - x_0)^2 + (y - y_0)^2 = R^2.$$

Параметрические уравнения окружности с радиусом R и центром в точке $M_0(x_0, y_0)$:

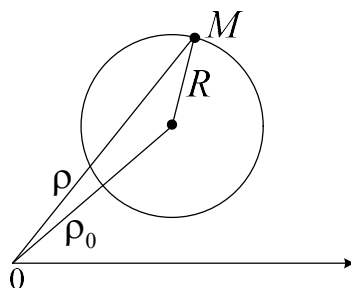
$$\begin{cases} x = x_0 + R \cos t, \\ y = y_0 + R \sin t. \end{cases}$$

Уравнение окружности в полярных координатах с центром в начале координат (полюсе):



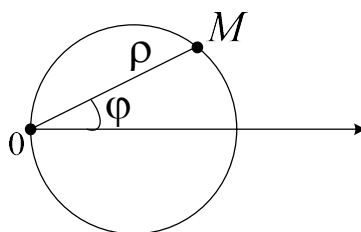
Уравнение окружности с центром в точке $M(\alpha_0, \varphi_0)$:

$$\rho^2 - 2\rho\rho_0 \cos(\varphi - \varphi_0) + \rho_0^2 = R^2.$$

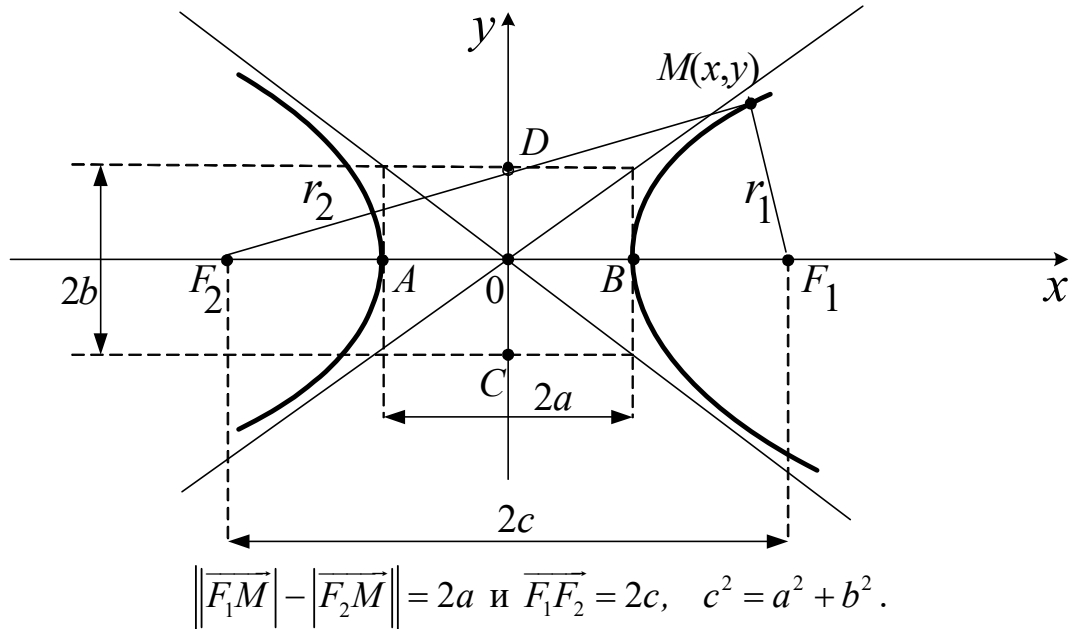


Уравнение окружности с центром в точке $B\left(\frac{a}{2}, 0\right)$ и радиусом $R = \frac{a}{2}$

$$\rho = a \cos \varphi.$$



Гипербола – геометрическое место точек $M(x, y)$, для которых абсолютная величина разности расстояний до двух заданных точек $F_1(+c, 0)$ и $F_2(-c, 0)$, называемых фокусами гиперболы, постоянна и равна $2a$ ($a < c$).



Каноническое уравнение гиперболы:

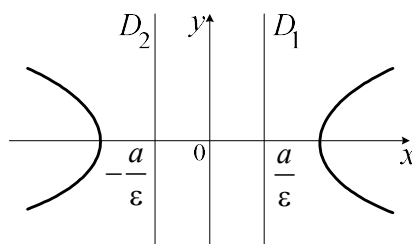
$$\frac{x^2}{a^2} - \frac{y^2}{b^2} = 1.$$

Элементы гиперболы: точка O – центр гиперболы; точки A и B – вершины; точки $F_1(+c, 0)$ и $F_2(-c, 0)$ – фокусы; $2c$ – фокусное расстояние; $AB = 2a$ – действительная ось гиперболы; $CD = 2b$ – мнимая ось гиперболы; $b = \sqrt{c^2 - a^2}$; $\varepsilon = \frac{c}{a}$, ($\varepsilon > 1$) – эксцентриситет гиперболы $\left(\varepsilon = \sqrt{1 + \frac{b^2}{a^2}} \right)$;

$y = \pm \frac{b}{a} \cdot x$ – асимптоты гиперболы.

Каноническое уравнение гиперболы со смещенным центром:

$$\frac{(x - x_0)^2}{a^2} - \frac{(y - y_0)^2}{b^2} = 1.$$

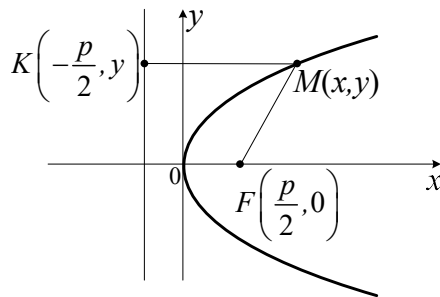


$$x = \pm \frac{a}{\varepsilon} - \text{уравнения директрис гиперболы}$$

Параметрические уравнения одной ветви гиперболы:

$$\begin{cases} x = a \operatorname{ch} t, \\ y = b \operatorname{sh} t, \end{cases} \quad t \in (-\infty, \infty).$$

Парабола – геометрическое место точек $M(x, y)$, равноудалённых от заданной точки $F\left(\frac{p}{2}, 0\right)$, называемой фокусом параболы, и от данной прямой, называемой директрисой параболы.



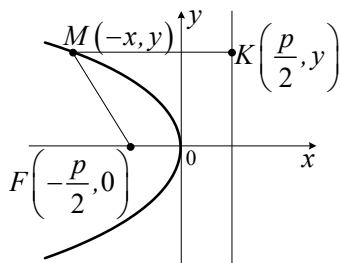
$$|\overline{FM}| = |\overline{MK}|, \quad |\overline{MK}| = \frac{p}{2} + x.$$

Каноническое уравнение параболы:

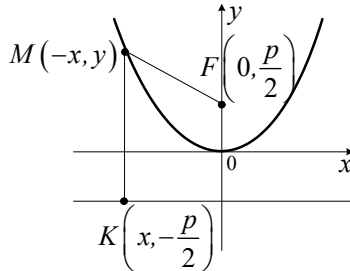
$$y^2 = 2px, \quad p > 0.$$

Элементы параболы: точка O – вершина параболы; Ox – ось параболы; точка $F\left(\frac{p}{2}, 0\right)$ – фокус; $x = -\frac{p}{2}$ – уравнение директрисы; $e = 1$ – эксцентриситет параболы; p – фокальный параметр (расстояние от фокуса до директрисы).

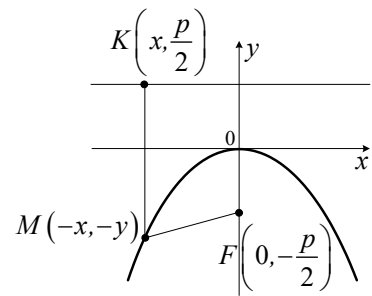
В зависимости от направления ветвей меняется уравнение параболы и ее расположение в декартовой системе координат:



$$y^2 = -2px$$



$$x^2 = 2py$$



$$x^2 = -2py$$

Канонические уравнения парабол с вершиной в точке $A(x_0, y_0)$:

$$(y - y_0)^2 = 2p(x - x_0),$$

$$(y - y_0)^2 = -2p(x - x_0),$$

$$(x - x_0)^2 = 2p(y - y_0),$$

$$(x - x_0)^2 = -2p(y - y_0).$$

Параметрические уравнения параболы $x^2 = 2py$:

$$\begin{cases} x = t, \\ y = \sqrt{2pt}, \end{cases} \quad t \geq 0.$$

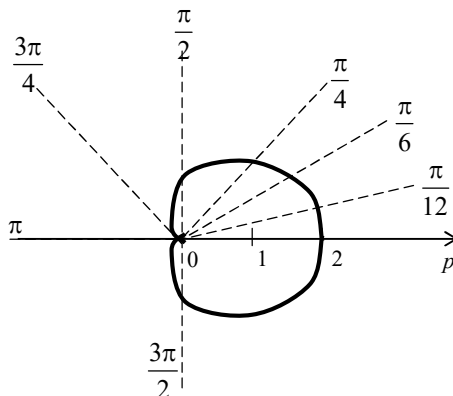
Задача 3.7. Построить кривую $\rho = 1 + \cos \varphi$ в полярной системе координат.

Решение

Составим таблицу значений.

φ	0	$\frac{\pi}{12}$	$\frac{\pi}{6}$	$\frac{\pi}{4}$	$\frac{\pi}{3}$	$\frac{5\pi}{12}$	$\frac{\pi}{2}$	$\frac{3\pi}{4}$	π	$\frac{3\pi}{2}$
ρ	2	1,97	1,87	1,7	1,5	1,26	1	0,3	0	1

По полученным координатам строим точки и соединяем их плавной кривой (см. рис. 6). Полученная кривая называется *кардиоидой*.



Задача 3.8. Перейти из декартовых координат к полярным и построить кривую $(x^2 + y^2)^2 = 25(x^2 - y^2)$ в полярной системе координат.

Решение

Воспользуемся формулами перехода к полярным координатам

$$\begin{cases} x = \rho \cos \varphi, \\ y = \rho \sin \varphi. \end{cases}$$

Получим равенство: $(\rho^2 \cos^2 \varphi + \rho^2 \sin^2 \varphi)^2 = 25(\rho^2 \cos^2 \varphi - \rho^2 \sin^2 \varphi)$.

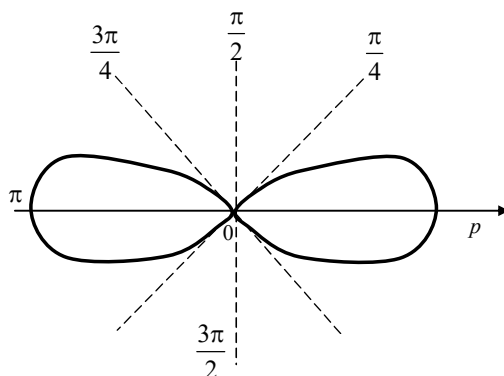
После его преобразования с использованием формул тригонометрии, получим:

$$\rho^4 = 25\rho^2(\cos^2 \varphi - \sin^2 \varphi), \quad \rho^4 = 25\rho^2 \cos 2\varphi, \quad \rho = 5\sqrt{\cos 2\varphi}, \quad \cos 2\varphi \geq 0.$$

Построим эту линию по точкам. Для этого составим таблицу, учитывая, что $\cos 2\varphi \geq 0$ при $-\frac{\pi}{4} + \pi k \leq \varphi \leq \frac{\pi}{4} + \pi k, k \in Z$. Полученная кривая (см. рис. 7)

называется *лемнискатой Бернулли*.

φ	0	$\frac{\pi}{6}$	$\frac{\pi}{4}$	$\frac{3\pi}{4}$	π	$\frac{7\pi}{6}$	$\frac{5\pi}{4}$	$\frac{7\pi}{4}$	$\frac{11\pi}{6}$	2π
ρ	5	3,5	0	0	5	3,5	0	0	3,5	5



Задача 3.9. Выделяя полные квадраты, привести к каноническому виду уравнение линии, заданной уравнением $4x^2 + 8x + 9y^2 - 36y + 4 = 0$, и построить ее.

Решение

Сгруппируем по отдельности слагаемые, содержащие x и y , и в каждой группе вынесем общий множитель $4(x^2 + 2x) + 9(y^2 - 4y) + 4 = 0$.

В каждой скобке дополним первые два слагаемых до полного квадрата:

$$4((x^2 + 2x + 1) - 1) + 9((y^2 - 4y + 4) - 4) + 4 = 0$$

$$4(x+1)^2 - 4 \cdot 1 + 9(y-2)^2 + 9 \cdot (-4) + 4 = 0.$$

$$4(x+1)^2 + 9(y-2)^2 = 36.$$

Разделим обе части уравнения на 36, получим $\frac{(x+1)^2}{9} + \frac{(y-2)^2}{4} = 1$.

Это уравнение определяет эллипс с центром в точке $O_1(-1; 2)$ и полуосями $a = 3$ и $b = 2$. Построим эту линию:

